

Questão-aula 1 - Resolução

3.º período

Data: ____ / 04 / 2020

1 página

Nome:

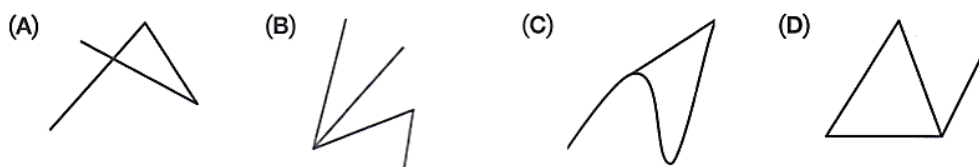
Ano/Turma: 5.º

N.º

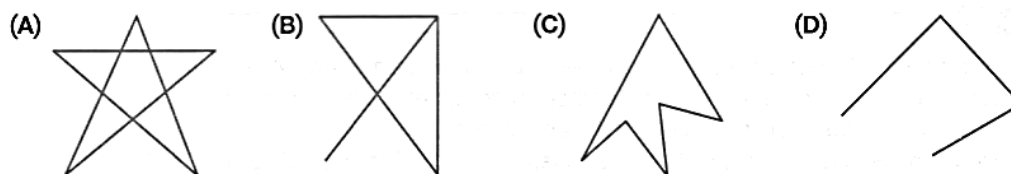
Linhas poligonais e polígonos

Responde às questões que te são apresentadas, assinalando a resposta correta na tabela.

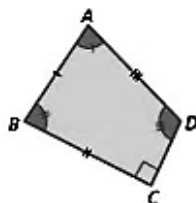
1. Em qual das seguintes opções está representada uma linha poligonal?



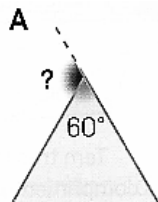
2. Em qual das seguintes opções está representada a fronteira de um polígono?



3. Em qual das seguintes opções está representada a classificação do polígono $[ABCD]$ quanto ao número de lados?



- (A) Polígono irregular (B) Quadrilátero (C) Polígono convexo (D) Octógono
4. Em qual das seguintes opções está representada a amplitude do ângulo externo correspondente ao ângulo interno de 60° ?



- (A) 60° (B) 120° (C) 300° (D) 360°

Tabela de respostas

Questão	1.	2.	3.	4.
Opção	A	C	B	B