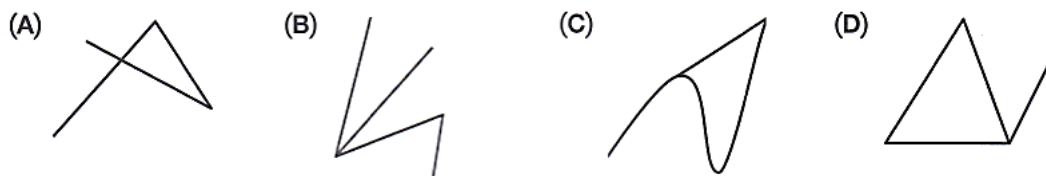


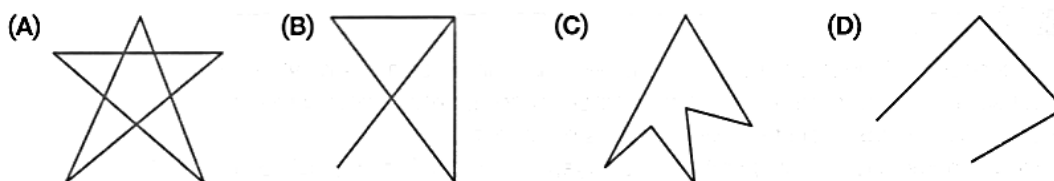
Linhas poligonais e polígonos

Responde às questões que te são apresentadas, assinalando a resposta correta na tabela.

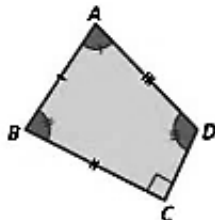
1. Em qual das seguintes opções está representada uma linha poligonal?



2. Em qual das seguintes opções está representada a fronteira de um polígono?

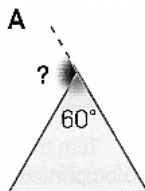


3. Em qual das seguintes opções está representada a classificação do polígono $[ABCD]$ quanto ao número de lados?



- (A) Polígono irregular (B) Quadrilátero (C) Polígono convexo (D) Octógono

4. Em qual das seguintes opções está representada a amplitude do ângulo externo correspondente ao ângulo interno de 60° ?



- (A) 60° (B) 120° (C) 300° (D) 360°

Tabela de respostas

Questão	1.	2.	3.	4.
Opção				

Nota:

- Grava a tua resposta à questão-aula1, num ficheiro com a tua turma e nome, adaptando do seguinte exemplo:

5A_JoaoSilva_qa1 (**NÃO** uses acentos nem espaços em branco)

- Envia por **e-mail** a tua questão-aula1 para a tua professora.

Para as turmas 5A, 5B, 5G, 5H: cm.aprendermais@gmail.com	Para as turmas 5C, 5D, 5E, 5F: fr.aprendermais@gmail.com
--	--