

Ficha de trabalho 1

3.º período

Data: ___ / 04 / 2020

2 páginas

Nome:

Ano/Turma: 5.º

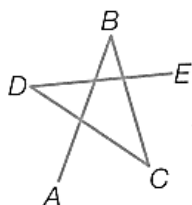
N.º

Linhas poligonais

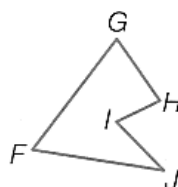
1. Considera as linhas poligonais a seguir representadas.



Linha 1



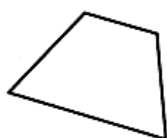
Linha 2



Linha 3



Linha 4



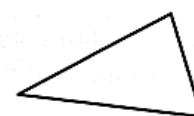
Linha 5



Linha 6



Linha 7



Linha 8

1.1 Relativamente às linhas poligonais atrás apresentadas, indica as que são:

- a) fechadas; _____
- b) simples; _____
- c) fechadas e simples. _____

1.2 Indica as extremidades da linha poligonal 2.


1.3 Observa a linha poligonal 3.

- a) Indica os seus vértices. _____
- b) Indica os seus lados. _____
- c) Indica dois lados consecutivos. _____
- d) Indica dois lados não consecutivos. _____

2. Desenha, usando as seguintes grelhas de pontos apresentadas:


2.1 uma linha poligonal aberta e simples

com quatro lados;




2.3 uma linha poligonal aberta e não simples

com quatro lados;



2.2 uma linha poligonal fechada e simples

com cinco lados;



2.4 uma linha poligonal fechada e não

simples com cinco lados;

